






1	<p>Czym charakteryzują się wzdłużne ruchy pojazdu?</p> <p>a) falowaniem pojazdu, b) drganiem pojazdu, c) pojazd zachowuje się neutralnie.</p>	
2	<p>Kiedy kierowca autokaru jeżdżąc w górach powinien używać zwalnicza prędkości?</p> <p>a) zawsze podczas hamowania, b) nie ma potrzeby, c) tylko przy wjeździe na wzniesienie.</p>	
3	<p>Czy kierujący autobusem turystycznym może jechać pasem, na który widnieje ten znak?</p> <p>a) Tak, b) Nie, c) tak, jeśli na sąsiednich pasach jest duży ruch.</p>	
4	<p>Którą drogą oznaczoną takimi znakami może jechać kierujący autobusem o nacisku osi odpowiadającym masie 10t ?</p>	<p> a)  b)  c)</p>

5	<p>Co powinien zrobić kierujący autobusem turystycznym widząc ten znak ?</p> <ul style="list-style-type: none">a) kontynuować jazdę pasem dla autobusów,b) nie zajmować pasa dla autobusów,c) jechać dowolnym pasem.	
6	<p>Co kierujący autobusem przed wjazdem na drogę oznaczoną tym znakiem powinien uczynić?</p> <ul style="list-style-type: none">a) poinformować pasażerów o najbliższym możliwym postoju,b) sprawdzić światła zewnętrzne pojazdu,c) uzgodnić z pasażerami termin .kolejnego postoju.	